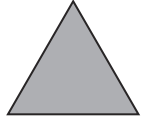


Combien de côtés ? How Many Sides?

I can answer a question in French.




un triangle




un carré




un rectangle



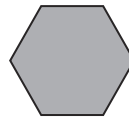
un losange



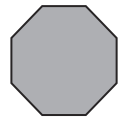
un cerf-volant



un pentagone



un hexagone



un octogone

trois

quatre

cinq

six

huit

Answer the questions, the first one is done for you.

Combien de côtés a un carré ?

Il a quatre côtés.

Combien de côtés a un octogone ?

Combien de côtés a un triangle ?

Combien de côtés a un pentagone ?

Combien de côtés a un cerf-volant ?

Combien de côtés a un rectangle ?

Combien de côtés a un hexagone ?

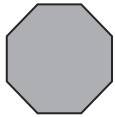


Combien de côtés ? How Many Sides?

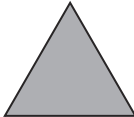
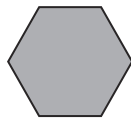
I can answer a question in French.



un triangle
un cerf-volant





un carré
un pentagone



un rectangle
un hexagone



un losange
un octogone



trois

quatre

cinq

six

huit

Answer the questions, the first one is done for you.

Combien de côtés ont un carré et un losange ?

Ils ont huit côtés.

Combien de côtés ont un octogone et un triangle ?

Combien de côtés ont un triangle et un cerf-volant ?

Combien de côtés ont un pentagone et un hexagone ?

Combien de côtés ont un cerf-volant et un octogone ?

Combien de côtés ont un rectangle et un pentagone ?

Combien de côtés ont un hexagone et un triangle ?
